



تشریحی ۱۳۹۹ دشوار

①

رابطه مصادیق مفهوم حیوان چگونه است؟ و مفاهیم آهو و آهوی دشت چه نوع مفاهیمی هستند؟

بارم: ۱

تشریحی قلمچی ۱۳۹۶ دشوار

②

برای هر یک از موارد زیر یک نمونه بیاورید.

بارم: ۰.۵

(الف) یک مفهوم کلی ذکر کنید که در خارج مصداق ندارد و به وجود آمدن فردی برای آن محال است.

(ب) یک مفهوم کلی ذکر کنید که در خارج یک فرد است و به وجود آمدن فردی دیگر برایش ممکن است.

نهایی ۱۴۰۰ متوسط

③

مفهوم کلی، مفهومی است که قابلیت انطباق بر بیش از یک مورد را دارد؛ خواه این مورد، از موارد باشد یا از موارد موارد

بارم: ۱

تشریحی ۱۳۹۸ متوسط

④

در کدام گزینه تمامی مفاهیم به کار رفته در هر دو قضیه کلی هستند؟

بارم: ۱

(الف) منطق، جنبه سلبی و ایجابی دارد.

(ب) آن کشور آفریقایی، پدیده استعمار است.

(ج) قهرمان داستان‌های فلسفی افلاطون، سقراط است.

(د) روشنایی، منبع یکسانی ندارد.

تشریحی ۱۳۹۷ ساده

⑤

در یک دسته بندی، معمولاً از مفاهیم ... آغاز می‌کنیم و به مفهوم ... می‌رسیم و لازم است ... رابطه عموم و خصوص مطلق داشته باشند.

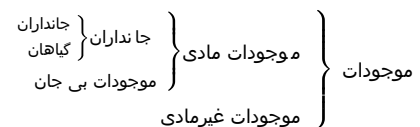
بارم: ۱

تشریحی قلمچی ۱۳۹۷ دشوار

⑥

با توجه به دسته بندی زیر به سوالات پاسخ دهید

بارم: ۲



(الف) رابطه بین جانوران و جانداران در کدام حیطة از روابط نسبت های چهارگانه قرار می گیرد؟ شکل آن را رسم کنید.

(ب) ویژگی یک دسته بندی درست چیست؟

(ج) در این‌گونه دسته بندی از چه مفاهیمی آغاز می کنیم و به چه مفاهیمی می رسیم؟

(د) رابطه بین اقسام جانوران و گیاهان چگونه است؟ شکل آن را رسم کنید.

تشریحی ۱۳۹۷ دشوار

⑦

بین مفاهیم «چرخ و ماشین» و «ایرانی و آسیایی» به ترتیب کدام یک از نسبت‌های چهارگانه برقرار است و دو دایره متداخل نشان‌دهنده کدام‌یک از نسبت‌های اربعه هستند؟

بارم: ۱

۸

تشریحی ۱۳۹۶ ساده

مفاهیم «این کتاب، رخس، رود ارس، کتاب فلسفه، درخت سرو» به ترتیب کلی هستند یا جزئی و در نسبت‌های چهارگانه دو بارم: ۱ دایره منطبق بر هم نشان‌دهنده نسبت ... می‌باشد.

۹

تشریحی قلم‌چی ۱۳۹۶ متوسط

اقسام مختلف یک مفهوم نسبت به یکدیگر چه نوع رابطه ای دارند؟ (از نسبت های چهارگانه) با ذکر مثال. بارم: ۰.۵

۱۰

تشریحی ۱۳۹۹ دشوار

نسبت‌های چهارگانه، نسبت میان دو مفهوم ... است و نسبت میان دو مفهوم «مادی» و «موجود» کدام یک از نسب اربعه است؟ بارم: ۱

۱۱

نهایی ۱۳۹۹ دشوار

با در نظرگرفتن نسبت های چهارگانه مفاهیم زیر را طبقه بندی کنید. (اصفهانی-انسان-ایرانی-مشهدی-عراق-خراسانی) بارم: ۱

۱۲

تشریحی ۱۳۹۸ ساده

بین مفاهیم (ایرانی و تهرانی)، (هندی و مسلمان) و (مسلمان و ایرانی) به ترتیب چه رابطه‌ای وجود دارد؟ بارم: ۱

۱۳

نهایی ۱۳۹۹ دشوار

تصور کلی و تصور جزئی رامشخص کنید. الف) دیو ب) آن کلاس ج) حضرت علی (ع) د) انسان بارم: ۱

۱۴

تشریحی ۱۳۹۹ دشوار

مفاهیم «کتاب مولانا»، «کربلای معلی» و «تضاد» به ترتیب چگونه مفاهیمی هستند و مفهومی که غیرقابل انطباق به بیش از یک مورد نیست، چه نوع مفهومی است؟ بارم: ۱

۱۵

تشریحی ۱۳۹۷ ساده

قضایای «هر ایرانی آسیایی است؛ برخی آسیایی‌ها ایرانی هستند»، «برخی سنگ‌ها سفیدند و برخی سنگ‌ها سفید نیستند» برخی از اشیای سفید، سنگ هستند و برخی از اشیای سفید سنگ نیستند» نشان‌دهنده کدام نسبت از نسبت‌های چهارگانه هستند؟ بارم: ۱

۱۶

تشریحی ۱۳۹۹ متوسط

میان مفاهیم کلی «ایرانی و غیرمسلمان»، «آجر و دیوار» و «موجود و غیرمادی» به ترتیب کدام یک از نسبت‌های چهارگانه برقرار است؟ بارم: ۱

۱۷

تشریحی قلم‌چی ۱۳۹۷ ساده

از بین دو واژه داده شده واژه مناسب را برای کامل کردن جملات انتخاب کنید. بارم: ۰.۷۵
الف) اگر کسی تصویری از شیء جدید نداشته باشد از معلوم استفاده می‌کنیم و شیء را توصیف می‌کنیم. (تصور - تصدیق)
ب) در دسته بندی از مفاهیم عام شروع می‌کنیم و به مفاهیم خاص می‌رسیم. (مصادیق - مفاهیم)
ج) ذهن انسان به صورت براساس قواعدی می‌اندیشد. (طبیعی - ارادی)

۱۸

تشریحی قلمچی ۱۳۹۷

ساده

نسبت های چهارگانه را درمثال های زیر مشخص کنید.

بارم: ۱

الف) علم و تصدیق

ب) فلز مایع و جیوه

ج) دانش آموز و هنرمند

د) موازی و متقاطع

۱۹

تشریحی قلمچی ۱۳۹۸

ساده

مشخص کنید کدامیک از مفاهیم زیر کلی و کدامیک جزئی می باشد؟

بارم: ۲

الف) کرمان

ب) قوی ترین مرد زمین

ج) مولود کعبه

د) مشهد (به معنای محل شهادت)

۲۰

نهایی ۱۳۹۹

دشوار

باربسم شکل مشخص کنید بین مفاهیم زیر کدام یک از نسبت های چهارگانه برقرار است؟

بارم: ۱

الف) گل و گلدان (ب) انار و شیرین

ج) انسان و بشر (د) سرو و درخت

۲۱

تشریحی ۱۳۹۷

دشوار

به ترتیب مفاهیم «امام» و «ضامن آهو» ... و ... هستند و میان مصادیق آن ها ...

بارم: ۱

۲۲

تشریحی ۱۳۹۹

دشوار

بین مفاهیم «ماده و آب»، «جسم و دارای مکان» و «مرغ و تخم مرغ» کدام رابطه ها به ترتیب برقرار است؟

بارم: ۱

۲۳

تشریحی ۱۳۹۹

متوسط

چند مورد از عبارت های زیر صحیح است؟

بارم: ۱

الف) مفهوم کلی قابلیت آن را دارد که بر مصادق های متعددی منطبق شود.

ب) میان دو مفهوم «انسان» و «ناطق» رابطه «تساوی» برقرار است.

پ) مفهوم «شکل» یک مفهوم جزئی است.

۲۴

تشریحی قلمچی ۱۳۹۷

متوسط

در عبارت زیر به ترتیب چند مفهوم جزئی و کلی وجود دارد؟

بارم: ۰.۵

«سرهنگ، محمد رحمانی در گفت و گو با ایسنا گفت: باند شمالی آزاد راه تهران - کرج ترافیک است.»

۲۵

تشریحی ۱۳۹۹

ساده

به ترتیب میان دو مفهوم «میوه و ترش»، «خواهر و برادر» و «انسان و پزشک» چه نسبتی برقرار است؟

بارم: ۱

۲۶

تشریحی قلم‌چی ۱۳۹۷ متوسط

جاهای خالی را پر کنید.

بارم: ۱.۵

الف) نسبت های چهارگانه میان مصادیق دو مفهوم..... برقرار است و در یک دسته‌بندی درست هر طبقه از مفاهیم نسبت به مفاهیم طبقه دیگر رابطه..... دارند.

ب) شایع ترین انواع خطاهای ذهنی مغالطه..... است و استفاده از عبارات دو پهلو می تواند باعث ایجاد مغالطه..... شود.

ج) خطا در الفاظ می تواند باعث خطا در..... شود که به آن مغالطه..... می گویند.

۲۷

نهایی ۱۴۰۰ دشوار

مشخص کنید میان هر دو مفهوم کلی زیر چه نسبتی از نسبت های چهارگانه برقرار است؟

بارم: ۱

الف) مسلمان ، ایرانی (ب) میز ، درب

ج) مسلمان، شیعه (د) میز، چوبی

۲۸

تشریحی ۱۳۹۶ ساده

از بین تصورات «سیمرغ - رایین - کیمیا - محسوس - دریای خزر - الکل - یونان» کدام مفاهیم جزئی هستند و نسبت بین «پسر ایرانی و پسر» از نسبت‌های چهارگانه کدام است؟

بارم: ۱

۲۹

تشریحی ۱۳۹۶ متوسط

در طبقه‌بندی جانوران به مهره‌دار، بی‌مهره و مهره داران به خزندگان و پرندگان رابطه مفاهیم «جانوران و بی‌مهره‌ها» و «مهره‌داران و بی‌مهره‌ها» و «خزندگان و پرندگان» و «پرندگان و مهره‌داران» به‌ترتیب کدام است؟

بارم: ۱

۳۰

تشریحی ۱۳۹۷ ساده

به‌ترتیب در یک دسته‌بندی درست از مفاهیم ... آغاز می‌کنیم و به مفهومی ... می‌رسیم، لازم است هر طبقه از مفاهیم نسبت به مفاهیم طبقه دیگر رابطه ... داشته باشند، همچنین اقسام مختلف یک مفهوم باید نسبت به یکدیگر رابطه ... داشته باشند.

بارم: ۱

۳۱

تشریحی ۱۳۹۷ ساده

بین مفاهیم «شکل و دایره»، «دانشجو و شاعر» به‌ترتیب کدامیک از نسب اربع برقرار است و اگر بخواهیم با دو دایره آن‌ها را نشان دهیم دایره‌ها چگونه خواهند بود؟

بارم: ۱

۳۲

تشریحی ۱۳۹۷ ساده

مشخص کنید هر یک از مفاهیم زیر، به‌ترتیب جزئی هستند یا کلی؟

بارم: ۱

«این کتاب - رخس - درخت سرو - میز»

۳۳

تشریحی ۱۳۹۶ دشوار

وقتی میان دو مفهوم کلی مصداق مشترک وجود داشته باشد، می‌توانیم بگوییم ...

بارم: ۱

۳۴

تشریحی ۱۳۹۸ دشوار

در جمله «فیلسوف بزرگ اسلامی، ملاصدرا، می‌گوید مردم بر دو دسته‌اند: واقف و سائر» به‌ترتیب چند مفهوم جزئی و چند مفهوم کلی وجود دارد؟

بارم: ۱

۳۵

تشریحی ۱۳۹۸ دشوار

نسبت مصادیق مفاهیم زیر، کدامیک از نسبت‌های چهارگانه است؟

بارم: ۱

شکل و لامربع (آنچه که مربع نیست) / ماشین و آینه‌دار / سعدی و کتاب بوستان

۳۶

تشریحی ۱۳۹۸

دشوار

به ترتیب مفاهیم «کتاب مریم، این کتاب مریم، تخته این کلاس» کلی هستند یا جزئی؟

بارم: ۱

۳۷

تشریحی قلمچی ۱۳۹۶

متوسط

در حالتی که دو مفهوم دارای مصادیق مشترک بوده اما هریک از آن ها مصادیقی دارد که در دیگری موجود نیست، کدام یک از نسبت های ۴ گانه حاکم است؟ با ذکر مثال

بارم: ۰.۵

۳۸

تشریحی ۱۳۹۹

دشوار

اگر دو مفهوم ایران و کشور را نسبت به یکدیگر مقایسه کنیم، متوجه می شویم ...

بارم: ۱

۳۹

تشریحی ۱۳۹۷

ساده

هر یک از موارد «چرخ و ماشین»، «غزل و مثنوی» به ترتیب به کدام یک از نسب اربعه اشاره می کند و دو دایره منطبق نشان دهنده کدام نسبت است؟

بارم: ۱

۴۰

تشریحی قلمچی ۱۳۹۶

متوسط

اگر A از B بزرگتر باشد و نسبت بین C و B تساوی باشد و نسبت بین A و D تباین باشد:

بارم: ۱

(۱) شکل آن را ترسیم نمایید.

(۲) در این حالت نسبت بین D و B چگونه است؟

(۳) نسبت A و C را مشخص کنید.

۴۱

تشریحی ۱۳۹۸

ساده

میان دو مفهوم «اروپایی و فرانسوی» و «انسان و ناطق» به ترتیب چه نسبتی از نسب اربعه برقرار است؟

بارم: ۱

۴۲

تشریحی ۱۴۰۰

دشوار

چند مورد از عبارات زیر می توانند بیانگر یک مفهوم کلی باشند؟

بارم: ۱

- مصادیق بی نهایت در عالم خارج دارد.

- اسم خاص یک شیء بیرونی در عالم واقع است.

- تنها یک مصداق در عالم خارج دارد و ممکن است روزی مصادیق دیگری بیابد.

- تنها یک مصداق در عالم خارج دارد و ممکن نیست روزی مصادیق دیگری بیابد.

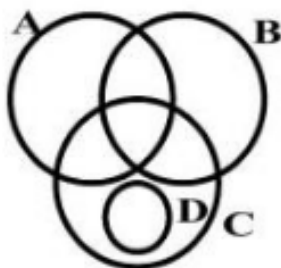
۴۳

تشریحی قلمچی ۱۳۹۸

متوسط

با توجه به شکل مقابل به سؤالات زیر در مورد نسبت های چهارگانه پاسخ دهید.

بارم: ۲



الف) نسبت بین C و D چگونه است؟

ب) نسبت بین D و B چگونه است؟

ج) چند نسبت عموم و خصوص من وجه مشاهده می کنید.

د) یک مثال برای نسبت بین C و D بنویسید.

۴۴

نهایی ۱۴۰۰

دشوار

مفاهیم جزئی و کلی را مشخص کنید.

بارم: ۱

د) این کتاب منطق

ج) دبیر منطق

ب) پدر من

الف) قدس

۴۵

تشریحی قلمچی ۱۳۹۷

متوسط

به سؤالات زیر پاسخ کوتاه دهید.

بارم: ۲.۷۵

الف) دو حیطه اصلی منطق را نام ببرید.

ب) کلمات و جملاتی که در زندگی به کار می‌بریم، مربوط به کدام حیطه‌ها می‌شوند؟

ج) علم منطق از آن نظر که باعث پدید آمدن بنای فکری مستحکمی می‌شود به چه چیزی تشبیه شده است؟

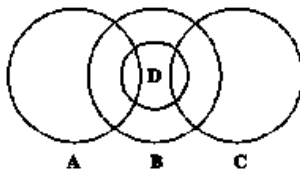
د) نسب اربعه میان کدام مفاهیم برقرار است؟ این نسبت‌ها را نام ببرید.

۴۶

تشریحی ۱۳۹۹

ساده

از میان اجزای زیر بین کدام یک «رابطه تباین» و کدام یک «رابطه عموم و خصوص مطلق» برقرار است؟ (به ترتیب از راست به چپ)



۴۷

نهایی ۱۴۰۰

متوسط

دو قضیه صادق در فرض برقراری رابطه تساوی بین «انسان و متفکر» را بنویسید.

بارم: ۱

۴۸

تشریحی ۱۳۹۸

ساده

حضرت «هود» ... پیامبر است و ... یک مفهوم جزئی است و مصداق مفهوم ... کاملاً مشخص است و از بین مفاهیم «فیلسوف»، «دریای عمان»، «ارسطو» و «افلاطون» مفهوم ... کلی است.

بارم: ۱

۴۹

تشریحی ۱۳۹۹

دشوار

از بین این تصورات «سیمرغ - راین - محسوس - دریای خزر - الکل - یونان» کدام مفاهیم جزئی هستند و نسبت بین «پسر ایرانی و پسر» از نسبت‌های چهارگانه کدام است؟

بارم: ۱

۵۰

تشریحی قلمچی ۱۳۹۶

متوسط

اگر نسبت بین دو مفهوم (مانند انسان و ناطق) تساوی باشد، نسبت بین نقیض این دو چه خواهد بود؟

بارم: ۰.۵

دشوار

تشریحی ۱۳۹۹

گزینه درست: null

سوال ۱

می‌دانیم که اقسام مختلف یک مفهوم باید نسبت به یکدیگر رابطه تباین داشته باشند، همچنین آهو و آهوی دشت به بیش از یک مصداق منطبق هستند، پس مفاهیمی کلی می‌باشند.

دشوار

تشریحی قلمچی ۱۳۹۶

گزینه درست: null

سوال ۲

الف) شریک خدا یا (اجتماع دو ضد)

ب) خورشید یا (ماه / مولود کعبه)

متوسط

نهایی ۱۴۰۰

گزینه درست: null

سوال ۳

واقعی خارجی- فرضی.

متوسط

تشریحی ۱۳۹۸

گزینه درست: null

سوال ۴

آن کشور آفریقایی و سقراط، مفاهیم جزئی هستند.

ساده

تشریحی ۱۳۹۷

گزینه درست: null

سوال ۵


در یک دسته‌بندی معمولاً، از مفهومی «عام» آغاز می‌کنیم و به مفهومی «خاص» می‌رسیم و لازم است هر طبقه از مفاهیم نسبت به مفاهیم طبقه دیگر رابطه «عموم و خصوص مطلق» داشته باشند.

دشواری

تشریحی قلم‌چی ۱۳۹۷

گزینه درست: null

سوال ۶

الف) رابطه میان مفاهیم هر طبقه نسبت به مفاهیم طبقه دیگر عموم و خصوص مطلق است و شکل آن به  است.

ب) در یک دسته بندی درست، لازم است هر طبقه از مفاهیم نسبت به مفاهیم طبقه دیگر رابطه عموم و خصوص مطلق داشته باشند.
ج) از مفاهیم عام آغاز می‌کنیم و به مفاهیم خاص می‌رسیم.

د) رابطه اقسام مختلف یک مفهوم تباین است و شکل آن به صورت:  است

دشواری

تشریحی ۱۳۹۷

گزینه درست: null

سوال ۷

چرخ و ماشین (تباین): هیچ چرخ، ماشین نیست؛ هیچ ماشینی چرخ نیست.
ایرانی و آسیایی (مطلق): هر ایرانی، آسیایی است، بعضی آسیایی‌ها ایرانی نیستند.



← عموم و خصوص مطلق

ساده

تشریحی ۱۳۹۶

گزینه درست: null

سوال ۸

مفهوم جزئی، مفهومی است که مصداق آن کاملاً مشخص است و قابلیت انطباق بر بیش از یک مورد را ندارد؛ مانند «این کتاب»، «رخش» و «رود ارس».

مفهوم کلی، مفهومی است که قابلیت انطباق بر بیش از یک مورد را دارد، خواه این مورد واقعی خارجی باشد یا فرضی باشد؛ مانند «کتاب فلسفه» و «درخت سرو». در رابطه «تساوی» دو دایره بر هم منطبق هستند.

متوسط

تشریحی قلم‌چی ۱۳۹۶

گزینه درست: null

سوال ۹

تباین مانند موجودات مادی و موجودات غیر مادی

(جاندار - بی جان / جانوران - گیاهان / مهره داران - بی مهره ها)

دشواری

تشریحی ۱۳۹۹

گزینه درست: null

سوال ۱۰

به چهار حالتی که ممکن است میان مصادیق دو مفهوم «کلی» شکل بگیرد، «نسبت‌های چهارگانه» یا «نسب اربع» می‌گویند.

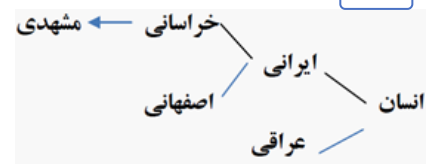
رابطه میان دو مفهوم کلی «مادی» و «موجود» عموم و خصوص مطلق است زیرا هر مادی‌ای، موجود است و بعضی موجودات مادی هستند و بعضی موجودات مادی نیستند.

دشواری

نهایی ۱۳۹۹

گزینه درست: null

سوال ۱۱



سوال ۱۲ گزینه درست: null تشریحی ۱۳۹۸ ساده

بین مفاهیم ایرانی و تهرانی رابطه عموم و خصوص مطلق برقرار است چرا که هر تهرانی ایرانی است ولی بعضی ایرانی‌ها تهرانی هستند. بین هندی و مسلمان رابطه عموم و خصوص من وجه برقرار است چرا که این دو مصادیق مشترک دارند و هر کدام مصادیق متفاوتی نیز با دیگری دارند. بین مسلمان و ایرانی نیز رابطه عموم و خصوص من وجه برقرار است.

سوال ۱۳ گزینه درست: null نهایی ۱۳۹۹ دشوار

الف) کلی (ب) جزئی (ج) جزئی (د) کلی

سوال ۱۴ گزینه درست: null تشریحی ۱۳۹۹ دشوار

کتاب مولانا یک مفهوم کلی است اما کربلای معلی یک مفهوم جزئی است و تضاد یک مفهوم کلی است. غیرقابل انطباق بر یک مورد نباشد یعنی قابلیت انطباق بر بیش از یک مورد را داراست. پس مفهوم کلی است.

سوال ۱۵ گزینه درست: null تشریحی ۱۳۹۷ ساده

اگر مصادیق یک مفهوم عام‌تر و مصادیق دیگری خاص‌تر باشد، این حالت را «عموم و خصوص مطلق» می‌گویند. از اسناد دو مفهوم کلی که رابطه «عموم و خصوص مطلق» دارند سه قضیه حاصل می‌شود. اگر دو مفهوم دارای مصادیق مشترک باشند اما هریک از آن‌ها مصادیقی داشته باشد که در دیگری وجود ندارد این حالت را «عموم و خصوص من وجه» می‌گویند. از اسناد دو مفهوم کلی که رابطه «عموم و خصوص من وجه» دارند چهار قضیه حاصل می‌شود.

سوال ۱۶ گزینه درست: null تشریحی ۱۳۹۹ متوسط

بعضی ایرانی‌ها غیرمسلمان هستند و بعضی نیستند و بعضی غیرمسلمان‌ها ایرانی هستند و بعضی نیستند ← عموم و خصوص من وجه هیچ آجری دیوار نیست. هیچ دیواری آجر نیست ← تباین رابطه آجر و دیوار رابطه جزء و کل است؛ پس تباین می‌باشد. هر غیرمادی موجود است اما بعضی موجودها غیرمادی هستند ← عموم و خصوص مطلق

سوال ۱۷ گزینه درست: null تشریحی قلم‌چی ۱۳۹۷ ساده

الف) تصور
ب) مفاهیم
ج) طبیعی

سوال ۱۸ گزینه درست: null تشریحی قلم‌چی ۱۳۹۷ ساده

الف) عموم و خصوص مطلق
ب) تساوی
ج) عموم و خصوص من وجه
د) تباین

سوال ۱۹

گزینه درست: null

تشریحی قلم‌چی ۱۳۹۸

ساده

الف) جزئی

ب) کلی

ج) کلی

د) کلی

سوال ۲۰

گزینه درست: null

نهایی ۱۳۹۹

دشوار

الف) تباین

ب) عموم و خصوص من وجه



ج) تساوی

د) عموم و خصوص مطلق

سوال ۲۱

گزینه درست: null

تشریحی ۱۳۹۷

دشوار

مفهوم امام، «کلی»، مفهوم ضامن آهو، «کلی» و رابطه میان مصادیق آن‌ها «عموم و خصوص من وجه» است زیرا برخی امامان ضامن آهو هستند و برخی امامان ضامن آهو نیستند و برخی ضامن آهوها، امام هستند و برخی ضامن آهوها، امام نیستند.

سوال ۲۲

گزینه درست: null

تشریحی ۱۳۹۹

دشوار

رابطه میان مفاهیم به ترتیب عموم و خصوص مطلق، تساوی و تباین است. هر آبی ماده است اما بعضی ماده‌ها آب هستند و بعضی نیستند. هر جسمی دارای مکان است و هر دارای مکانی نیز جسم است، رابطه بین مرغ و تخم‌مرغ تباین است زیرا هیچ مرغی تخم‌مرغ نیست و هیچ تخم‌مرغی هم مرغ نیست.

سوال ۲۳

گزینه درست: null

تشریحی ۱۳۹۹

متوسط

تشریح عبارت نادرست:

پ) مفهوم «شکل»، یک مفهوم کلی است.

سوال ۲۴

گزینه درست: null

تشریحی قلم‌چی ۱۳۹۷

متوسط

۳ مفهوم جزئی (سرهنگ رحمانی / ایسنا / باند شمالی آزاد راه تهران - کرج)

۲ مفهوم کلی (گفت و گو - ترافیک)

سوال ۲۵

گزینه درست: null

تشریحی ۱۳۹۹

ساده

میوه و ترش: عموم و خصوص من وجه

خواهر و برادر: تباین

انسان و پزشک: عموم و خصوص مطلق

سوال ۲۶

گزینه درست: null

تشریحی قلم‌چی ۱۳۹۷

متوسط

الف) کلی - عموم و خصوص مطلق

ب) اشتراک لفظ - ابهام در مرجع ضمیر

ج) اندیشیدن - اشتراک لفظ

سوال ۲۷ گزینه درست: null نهایی ۱۴۰۰ دشوار

الف) من وجه ب) تباین ج) مطلق د) من وجه

سوال ۲۸ گزینه درست: null تشریحی ۱۳۹۶ ساده

مفهوم رایج، یونان و دریای خزر چون هر سه اسم خاص هستند مفهوم «جزئی» محسوب می‌شوند و مفهوم کلی نیستند و نسبت بین پسر ایرانی و پسر از نسبت‌های چهارگانه نسبت «عموم و خصوص مطلق» می‌باشد.

سوال ۲۹ گزینه درست: null تشریحی ۱۳۹۶ متوسط

در طبقه‌بندی هر طبقه از مفاهیم نسبت به مفاهیم طبقه دیگر رابطه «عموم و خصوص مطلق» دارند و همچنین اقسام مختلف یک مفهوم باید نسبت به یک‌دیگر رابطه «تباین» داشته باشند؛

جانوران و بی‌مهره‌ها: عموم و خصوص مطلق

مهره‌داران و بی‌مهره‌ها: تباین

خزندگان و پرندگان: تباین

پرندگان و مهره‌داران: عموم و خصوص مطلق

سوال ۳۰ گزینه درست: null تشریحی ۱۳۹۷ ساده

در یک دسته‌بندی درست، لازم است هر طبقه از مفاهیم، نسبت به مفاهیم طبقه دیگر رابطه «عموم و خصوص مطلق» داشته باشند، هم چنین اقسام مختلف یک مفهوم باید نسبت به یک‌دیگر رابطه «تباین» داشته باشند، در یک دسته‌بندی لازم است، از مفهومی عام آغاز کنیم و به مفهوم خاص برسیم.

سوال ۳۱ گزینه درست: null تشریحی ۱۳۹۷ ساده

اگر بین دو مفهوم کلی، مصادیق یک مفهوم، عام‌تر و مصادیق دیگری خاص‌تر باشد، بین آن‌ها رابطه «عموم و خصوص مطلق» برقرار است؛ مانند «شکل و دایره» که آن‌ها را با دو دایره «متداخل» نشان می‌دهیم و اگر دو مفهوم دارای مصادیق مشترک باشد، اما هر یک از آن‌ها دارای مصادیقی باشند که در دیگری وجود نداشته باشد، بین آن‌ها رابطه «عموم و خصوص من‌وجه» برقرار است؛ مانند «دانشجو و شاعر» که آن‌ها را با دو «دایره متقاطع» نشان می‌دهیم.

سوال ۳۲ گزینه درست: null تشریحی ۱۳۹۷ ساده

مفهوم «جزئی»، مفهومی است که مصداق آن کاملاً مشخص است و قابلیت انطباق بر بیش از یک مورد را ندارد؛ مانند: «این کتاب» و «رخش».

مفهوم «کلی» مفهومی است که قابلیت انطباق بر بیش از یک مورد را دارد؛ خواه این مورد، از موارد واقعی خارجی باشد مانند: درخت سرو، میز. یا از موارد فرضی؛ مانند دیو، سیمرغ

سوال ۳۳ گزینه درست: null تشریحی ۱۳۹۶ دشوار

وقتی میان دو مفهوم کلی مصداق مشترکی وجود داشته باشد، «سه حالت میان آن‌ها ممکن است»: ۱) تساوی که همه مصادیق آن‌ها مشترک است و هیچ کدام مصداق غیرمشترک ندارند. ۲) عموم و خصوص مطلق که یک مفهوم، مصادیق غیرمشترک دارد. ۳) عموم و خصوص من‌وجه که هر دو مصادیق غیرمشترک دارند.

سوال ۳۴ گزینه درست: null تشریحی ۱۳۹۸ دشوار

«ملاصدرا» یک اسم خاص و بنابراین یک مفهوم جزئی است. بقیه مفاهیم یعنی «فیلسوف بزرگ اسلامی، مردم، دو دسته، واقف و سائر» همگی کلی هستند.

سوال ۳۵

گزینه درست: null

تشریحی ۱۳۹۸

دشوار

برخی شکل‌ها لامربعند (یعنی مربع نیستند، مثلاً مثلثند) و برخی شکل‌ها لامربع نیستند (یعنی مربعند) و برخی لامربعها (مثلاً مثلث) شکل‌اند و برخی لامربعها (مثلاً سنگ) شکل نیستند. پس رابطه این دو عموم و خصوص من وجه است. رابطه میان ماشین و آینه‌دار رابطه عموم و خصوص من وجه است؛ زیرا برخی آینه‌دارها ماشین هستند و بعضی ماشین‌ها نیز آینه‌دار هستند و نیز سعدی و کتاب بوستان به علت جزئی بودن رابطه‌ای ندارند.

سوال ۳۶

گزینه درست: null

تشریحی ۱۳۹۸

دشوار

«کتاب مریم» و «تخته این کلاس» می‌توانند دارای مصادیق متعدد باشند و در نتیجه کلی هستند؛ اما در ترکیب «این کتاب مریم» با توجه به اینکه اسم اشاره در ابتدا آمده، تنها به یک مصداق منحصر می‌شود و جزئی است.

سوال ۳۷

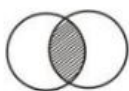
گزینه درست: null

تشریحی قلم‌چی ۱۳۹۶

متوسط

عموم و خصوص من وجه

سنگ و سفید



سوال ۳۸

گزینه درست: null

تشریحی ۱۳۹۹

دشوار

ایران یک مفهوم جزئی است، در حالی که نسبت‌های چهارگانه مقایسه دو مفهوم کلی از نظر مصادیقشان می‌باشد؛ پس هیچ نسبتی از نسب اربعه بین آن‌ها وجود ندارد.

سوال ۳۹

گزینه درست: null

تشریحی ۱۳۹۷

ساده

اگر بین دو مفهوم کلی هیچ مصداق مشترکی نباشد و مابین (ناسازگار) با یک دیگر باشند بین آن‌ها «تباین» برقرار است؛ مانند «چرخ و ماشین» و «غزل و مثنوی»

«دو دایره منطبق بر یک‌دیگر نشان‌دهنده رابطه تساوی است.»

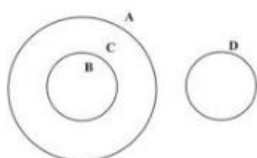
سوال ۴۰

گزینه درست: null

تشریحی قلم‌چی ۱۳۹۶

متوسط

(۱) ترسیم شکل



(۲) تباین

(۳) عموم و خصوص مطلق

ساده

تشریحی ۱۳۹۸

گزینه درست: null

سوال ۴۱

میان دو مفهوم «اروپایی و فرانسوی»، نسبت عموم و خصوص مطلق و میان دو مفهوم «انسان و ناطق» نسبت تساوی برقرار است. توضیح اینکه در نسبت عموم و خصوص مطلق، یکی از دو مفهوم کلی اعم از دیگری است و در نسبت تساوی مصادیق دو مفهوم کلی یکی بوده و بر یکدیگر به تمامه منطبق می باشند. در رابطه با دو مفهوم اروپایی و فرانسوی باید گفت که: هر فرانسوی اروپایی است، ولی برخی از اروپایی ها فرانسوی نیستند و برخی از اروپایی ها فرانسوی اند. در رابطه با دو مفهوم انسان و ناطق نیز باید گفت که: هر انسانی ناطق است و هر ناطقی انسان است.

دشوار

تشریحی ۱۴۰۰

گزینه درست: null

سوال ۴۲

به جز عبارت دوم که حتماً جزئی است، سایر عبارات می توانند بیانگر یک مفهوم کلی باشند. آنچه معیار کلی بودن یک مفهوم است این است که بتوانیم در ذهن برای آن مصادیق متعدد فرض کنیم و در نظر بیاوریم، نه اینکه آن مفهوم در خارج واقعاً چند مصداق دارد. بنابراین می توانیم مفاهیم کلی را به دسته های زیر تقسیم کنیم:

(۱) مفهومی که مصادیق بی شمار دارد: مثل «عدد»

(۲) مفهومی که مصادیق محدود در خارج دارد: مثل «درخت، سنگ، انسان و ...»

(۳) مفهومی که هیچ مصداقی در خارج ندارد: مثل «سیمرغ، اژدها و ...»

(۴) مفهومی که تنها یک مصداق در خارج دارد ولی می تواند روزی مصادیق دیگری بیابد: مثل «مولود کعبه»

(۵) مفهومی که تنها یک مصداق در خارج دارد و نمی تواند هیچ وقت هم مصادیق دیگری بیابد: مثل «خدا»

متوسط

تشریحی قلمچی ۱۳۹۸

گزینه درست: null

سوال ۴۳

الف) عموم و خصوص مطلق

ب) تباین

ج) ۳ مورد (بین B و C/A و C/B و A)

د) مانند انسان - دانش آموز (یا حیوان- انسان)

دشوار

نهایی ۱۴۰۰

گزینه درست: null

سوال ۴۴

الف) جزئی (ب) کلی (ج) کلی (د) جزئی

متوسط

تشریحی قلمچی ۱۳۹۷

گزینه درست: null

سوال ۴۵

الف) تعریف کردن - استدلال کردن

ب) مصداق، مفهوم و لفظ

ج) شاقول بنایی

د) نسبت های چهارگانه میان دو مفهوم (کلی) برقرار است و این نسبت ها شامل: تساوی - تباین - عموم و خصوص من وجه و عموم و خصوص مطلق می شود.

ساده

تشریحی ۱۳۹۹

گزینه درست: null

سوال ۴۶

میان A, C رابطه تباین و میان D, B رابطه عموم و خصوص مطلق وجود دارد.

متوسط

نهایی ۱۴۰۰

گزینه درست: null

سوال ۴۷

هر انسانی متفکر است - هر متفکری انسان است.

سوال ۴۸

گزینه درست: null

تشریحی ۱۳۹۸

ساده

حضرت هود به منزله مصداق مفهوم پیامبر است. این میز، مفهومی جزئی است. مفهوم جزئی، مفهومی است که مصداق آن کاملاً مشخص است و قابلیت انطباق بر بیش از یک مورد را ندارد. از میان مفاهیم آمده در سؤال، مفهوم فیلسوف یک مفهوم کلی است.

سوال ۴۹

گزینه درست: null

تشریحی ۱۳۹۹

دشواری

مفهوم رایج، یونان و دریای خزر چون هر سه اسم خاص هستند مفهوم جزئی محسوب می‌شوند و مفهوم کلی نیستند و نسبت بین پسر ایرانی و پسر از نسبت‌های چهارگانه نسبت عموم و خصوص مطلق می‌باشد: هر پسر ایرانی پسر است، بعضی پسرها ایرانی‌اند.

سوال ۵۰

گزینه درست: null

تشریحی قلم‌چی ۱۳۹۶

متوسط

باز هم تساوی خواهد بود (غیر انسان = غیرناطق)